

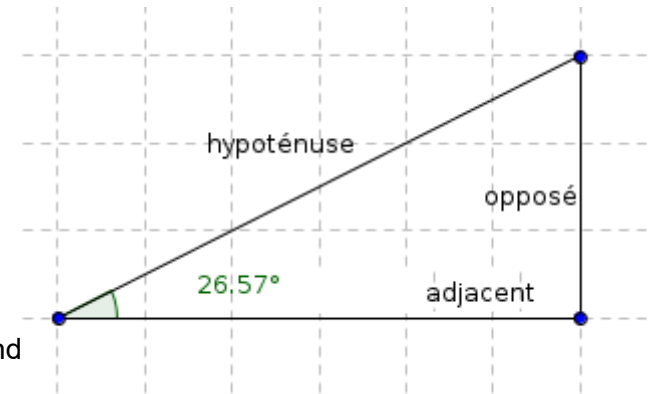
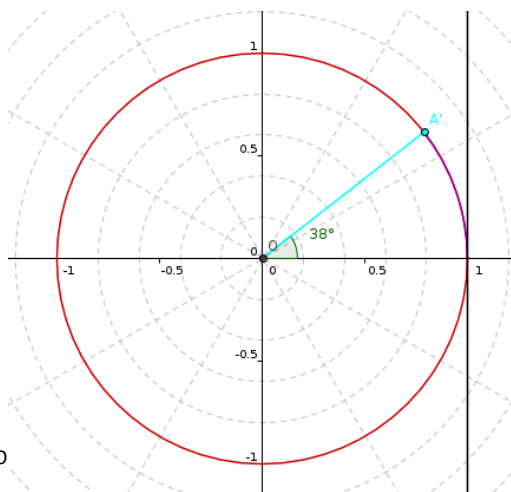
Trigonométrie et Pythagore

Pythagore :

S.O.H.C.A.H.T.O.A

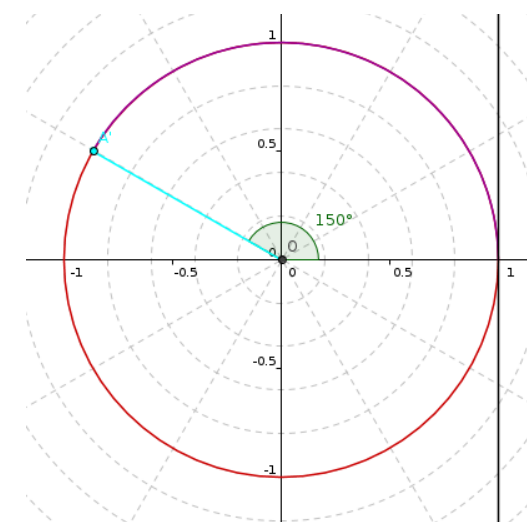
$$\sin \theta = \frac{\text{Opposé}}{\text{Hypoténuse}} \quad \cos \theta = \frac{\text{Adjacent}}{\text{Hypoténuse}} \quad \tan \theta = \frac{\text{Opposé}}{\text{Adjacent}}$$

Attention : la position de l'angle définit les côtés « opposés » et « adjacents ». Si l'on prend l'angle opposé, les cotés « opposés » et « adjacents » s'inversent...

Trigonométrie :

BoiteO

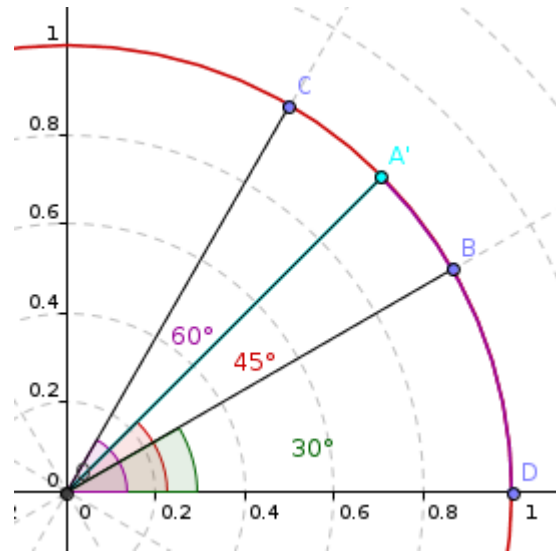
Représenter sur les figures ci-contre le cosinus, sinus et tangente de chacun des deux angles.



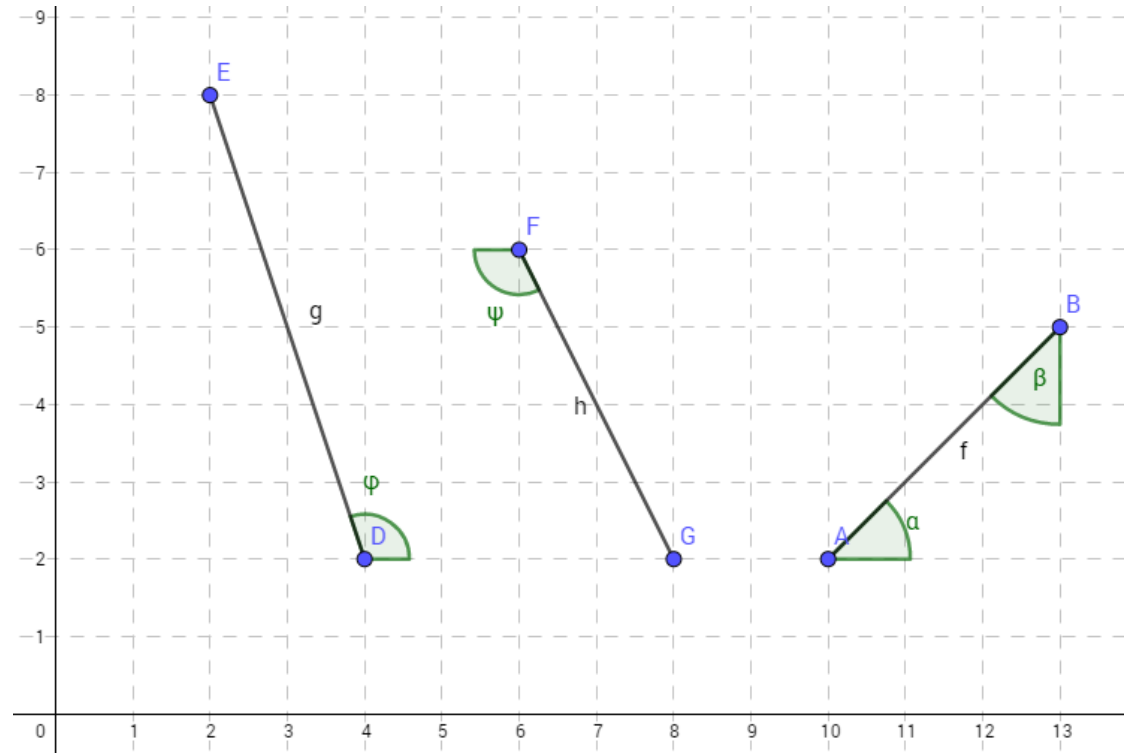
Page 1

Les valeurs remarquables :

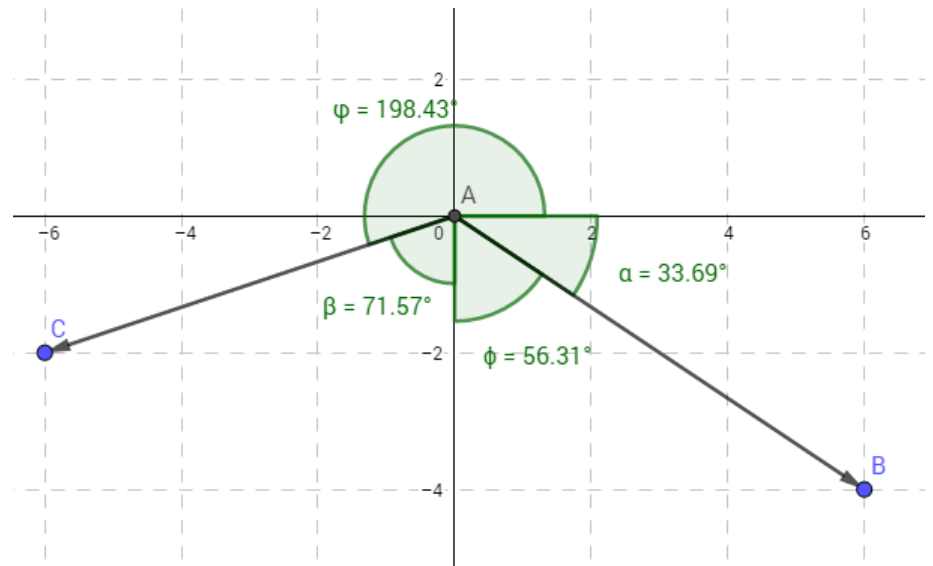
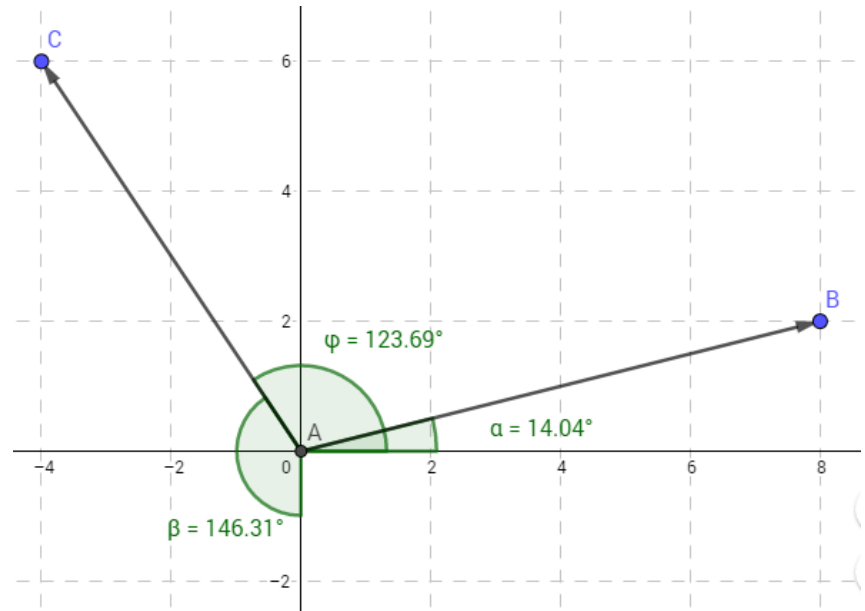
Il y a des valeurs remarquables intéressantes à mémoriser dans le cadre de diverses démonstrations mathématiques.



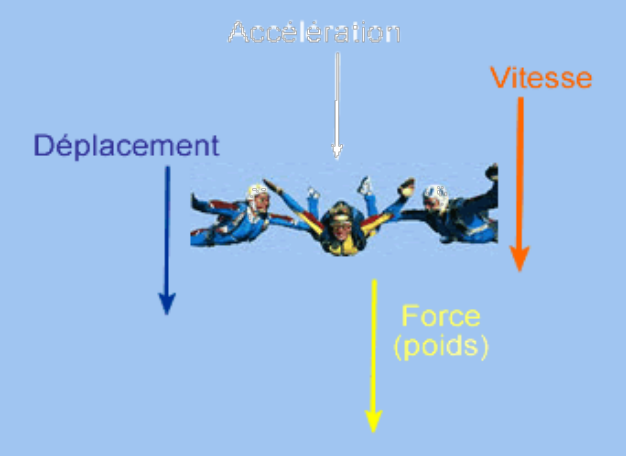

Déterminer les angles suivants :



Déterminer les valeurs numériques des projections des vecteurs suivant sur les axes des ordonnées ainsi que des abscisses :



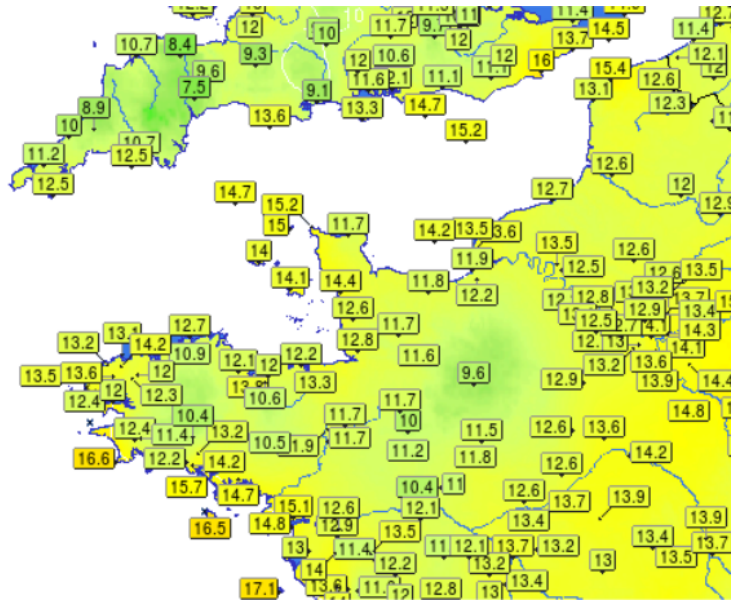
Grandeurs scalaire et vectorielle

<u>Vecteurs</u>	<u>Scalaire</u>
<p>Un vecteur est un quantité physique qui est spécifié par avec une grandeur (que l'on nommera Norme, Module ou l'Intensité par la suite), une direction et un sens.</p>	<p>Un scalaire est une quantité physique qui n'est spécifié que par sa grandeur. On peut l'exprimer avec un nombre, suivi ou non d'une unité (1 kg, 30 sec, 3 °C, ...).</p>
	 <p data-bbox="1167 746 1827 778">La masse Le temps La température</p> <p>Elles obéissent aux lois ordinaires de l'addition, de la soustraction, de la multiplication et de la division.</p> <p><u>Exemples :</u> Si 5 litres d'eau sont versés dans un contenant de 3 litres rempli d'eau, le volume résultant est de 8 litres. Si une masse de 10 grammes est enlevée d'un plateau d'une balance contenant 50 grammes, la masse résultante du plateau est de 40 grammes.</p>

Champs de scalaires et champs de vecteurs

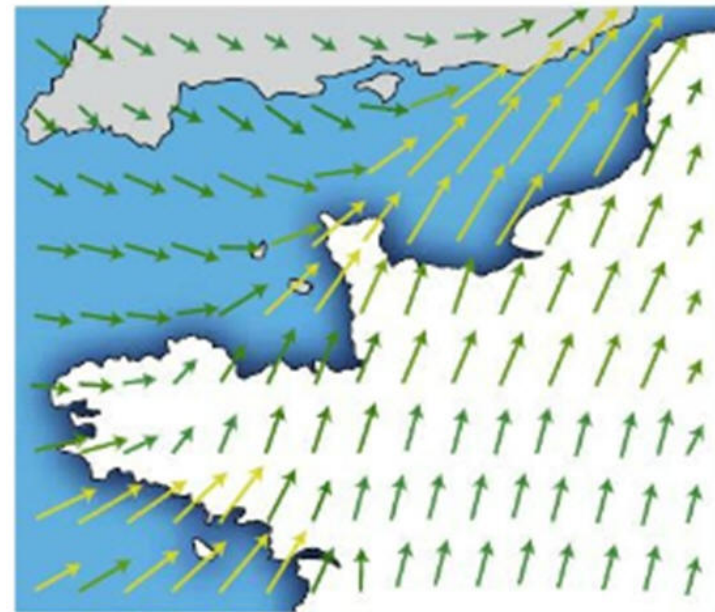
Champs de scalaires

Exemple : carte des températures



Champs de vecteurs

Exemple : carte des vents



Un champs de vecteurs donne plus d'indication qu'un champs de scalaire
(direction, sens et intensité)

Les vecteurs et leurs propriétés ([Lien vers vidéo explicative](#))

Objet mathématiques qui a trois caractéristiques :

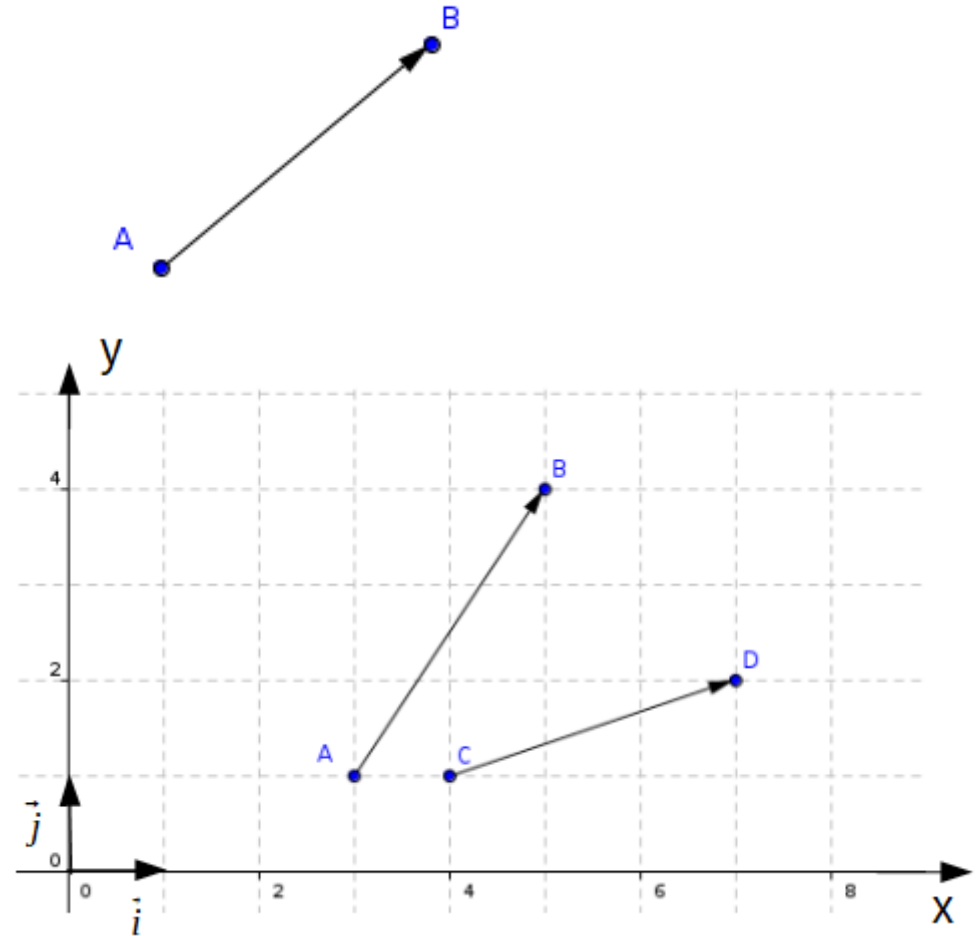
- Direction (AB)
- Sens : de A vers B
- Norme (module, amplitude, intensité) $\|\vec{AB}\|$

Coordonnées de points

Le point A a pour coordonnées :

$$A \begin{pmatrix} X_A \\ Y_A \end{pmatrix} = A \begin{pmatrix} 5 \\ 2 \end{pmatrix} \text{ Ou } A(5;2)$$

Donner les coordonnées des points B, C et D



Composantes d'un vecteur

Le vecteur \vec{AB} a pour composantes :

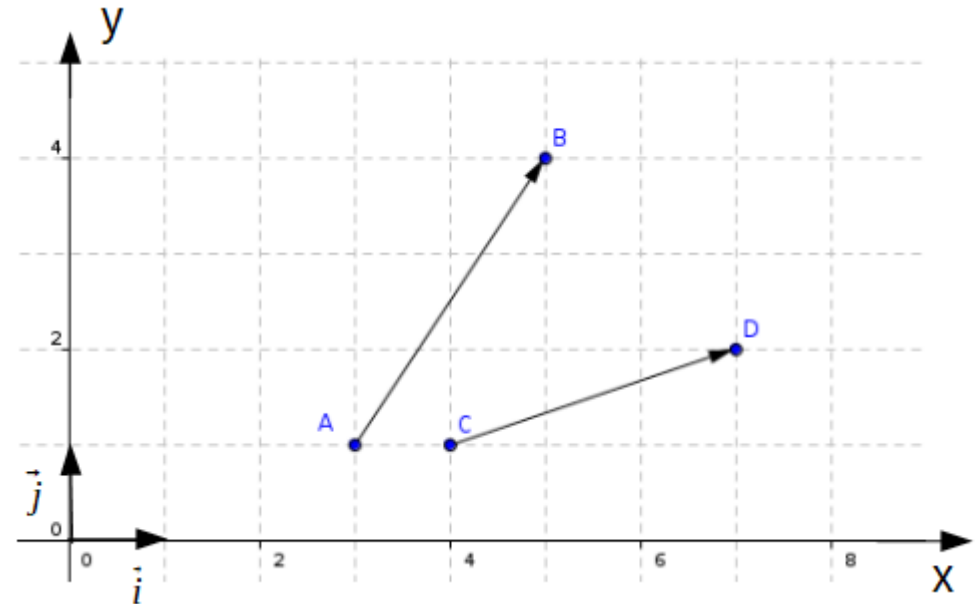
$$\vec{AB} \begin{pmatrix} X_B - X_A \\ Y_B - Y_A \end{pmatrix} = \vec{AB} \begin{pmatrix} AB_x \\ AB_y \end{pmatrix} = \vec{AB} \begin{pmatrix} 5-3 \\ 4-1 \end{pmatrix} = \vec{AB} \begin{pmatrix} 2 \\ 3 \end{pmatrix}$$

ou

$$\vec{AB}(2;3)$$

ou

$$\vec{AB} = 2\vec{i} + 3\vec{j}$$



Déterminer les composantes du vecteur \vec{CD} selon les trois écritures possible

Calcul de la norme du vecteur Merci Pythagore

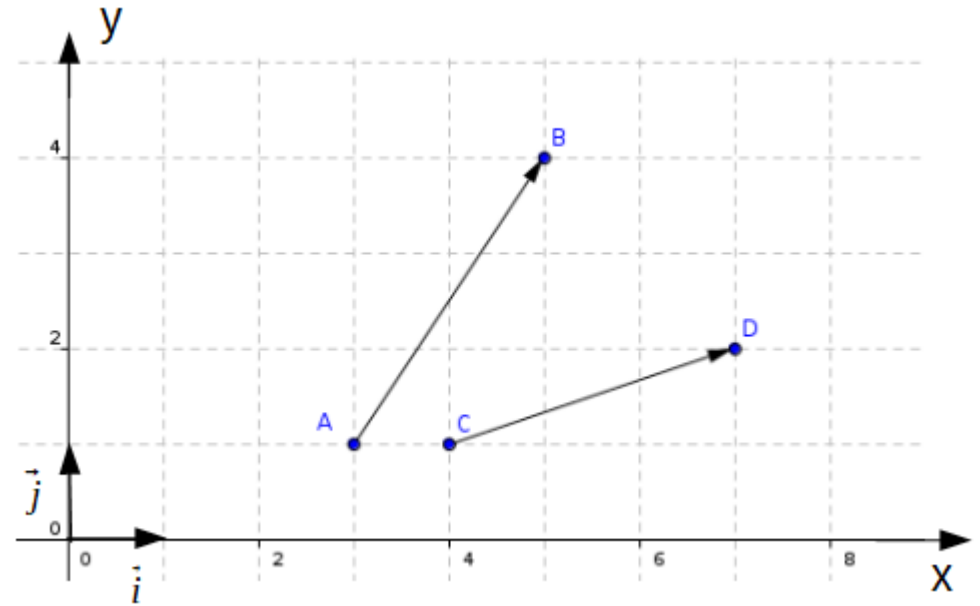
Soit un vecteur \vec{u} de composantes u_x et u_y .

$$\vec{u} \begin{pmatrix} u_x \\ u_y \end{pmatrix}$$

La norme du vecteur \vec{u} se calcule de la manière suivante :

$$\|\vec{u}\| = \sqrt{u_x^2 + u_y^2}$$

Calculer les normes des deux vecteurs $\vec{AB} \begin{pmatrix} 2 \\ 3 \end{pmatrix}$ et $\vec{CD} \begin{pmatrix} 3 \\ 1 \end{pmatrix}$



Addition / Soustraction de vecteurs.

Soit quatre vecteurs $\vec{u} = \overrightarrow{AB}$, $\vec{v} = \overrightarrow{CD}$, $\vec{a} = \overrightarrow{EF}$ et $\vec{b} = \overrightarrow{GH}$

$$\vec{u} \begin{pmatrix} u_x \\ u_y \end{pmatrix} \quad \vec{v} \begin{pmatrix} v_x \\ v_y \end{pmatrix} \quad \vec{a} \begin{pmatrix} a_x \\ a_y \end{pmatrix} \quad \vec{b} \begin{pmatrix} b_x \\ b_y \end{pmatrix}$$

$$\vec{w} = \vec{u} + \vec{v} = \begin{pmatrix} u_x + v_x \\ u_y + v_y \end{pmatrix} \quad \vec{z} = \vec{u} - \vec{v} = \begin{pmatrix} u_x - v_x \\ u_y - v_y \end{pmatrix}$$

Tracer $\vec{w} = \vec{u} + \vec{v}$ et vérifier les composantes par le calcul.

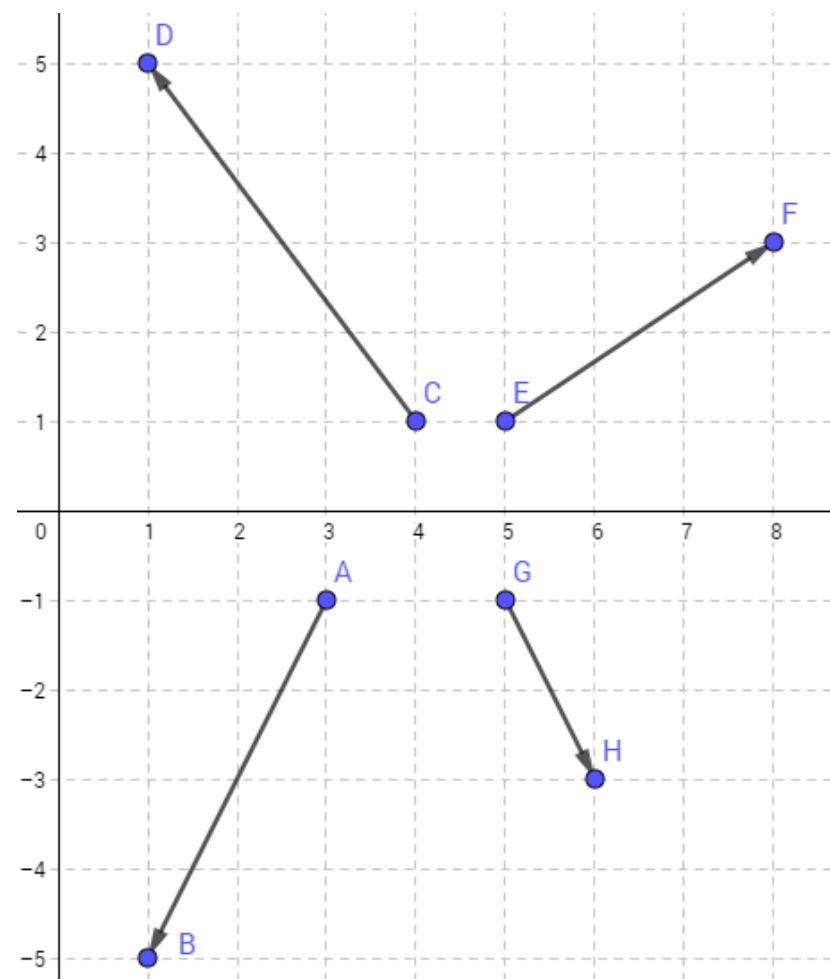
Tracer $\vec{z} = \vec{u} - \vec{v}$ et vérifier les composantes par le calcul.

Tracer $\vec{c} = \vec{a} + \vec{b}$ et vérifier les composantes par le calcul.

Tracer $\vec{d} = \vec{a} - \vec{b}$ et vérifier les composantes par le calcul.

Tracer $\vec{e} = \vec{a} + \vec{u}$ et vérifier les composantes par le calcul.

Tracer $\vec{f} = \vec{b} - \vec{v}$ et vérifier les composantes par le calcul.



Le produit scalaire

Important à retenir : Le produit scalaire retourne en SCALAIRE

Soit deux vecteurs $\vec{u} = \overrightarrow{AB}$ et $\vec{v} = \overrightarrow{CD}$ $\vec{u} \begin{pmatrix} u_x \\ u_y \end{pmatrix}$ $\vec{v} \begin{pmatrix} v_x \\ v_y \end{pmatrix}$

la multiplication de ces deux vecteurs est ce que l'on appelle un produit scalaire.

$\vec{u} \cdot \vec{v}$: produit scalaire de \vec{u} par \vec{v}

Déterminer les produits scalaires suivants tout en utilisant la définition la plus adaptée :

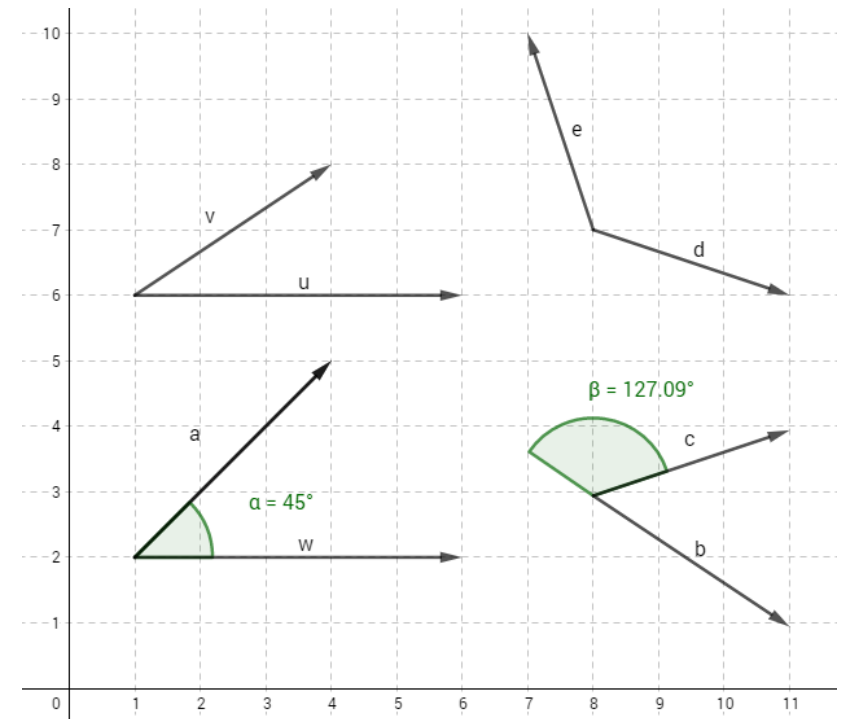
$\vec{a} \cdot \vec{w}$, $\vec{c} \cdot \vec{b}$, $\vec{v} \cdot \vec{u}$, $\vec{e} \cdot \vec{d}$ avec $\|\vec{a}\|=4,24$ $\|\vec{c}\|=3,16$ $\|\vec{e}\|=3,6$

Il existe trois définitions mathématique mais seuls deux nous sont utiles en Sciences de l'ingénieur :

Définition 1 : $\vec{u} \cdot \vec{v} = \|\vec{u}\| \cdot \|\vec{v}\| \cdot \cos(\vec{u}, \vec{v})$

Définition 2 : $\vec{u} \cdot \vec{v} = u_x \cdot v_x + u_y \cdot v_y$ (à utiliser si les composantes sont connues ou facile à déterminer)

Particularité : le produit scalaire est nul si les deux vecteurs sont orthogonaux (Effectivement le $\cos(\vec{u}, \vec{v}) = 0$)



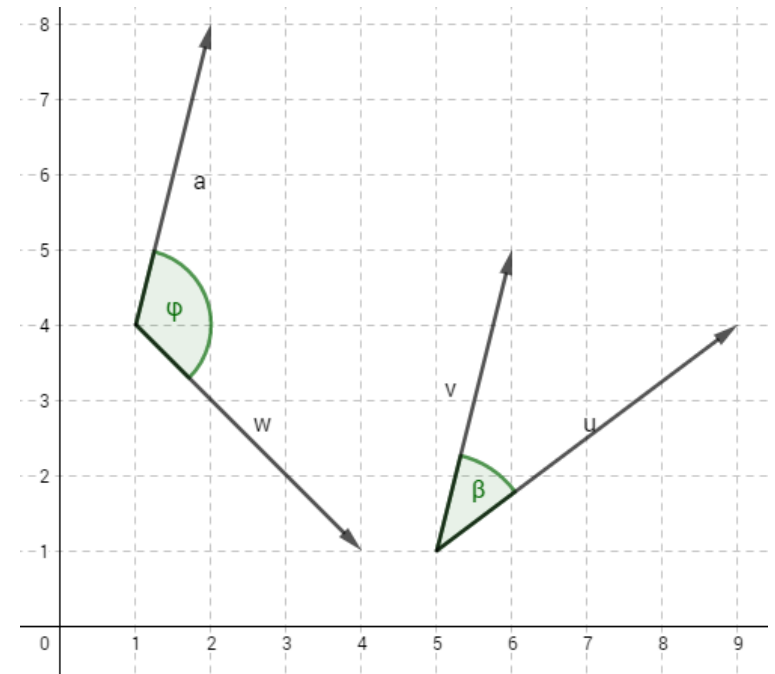
Calcul d'un angle entre deux vecteurs

Pour déterminer un angle entre deux vecteurs, les deux définitions du produit scalaire nous sera d'une aide précieuse !

La définition 1 et 2 nous permettent d'écrire : $\|\vec{u}\| \cdot \|\vec{v}\| \cdot \cos(\vec{u}, \vec{v}) = u_x \cdot v_x + u_y \cdot v_y$

$$\Rightarrow \cos(\vec{u}, \vec{v}) = \frac{u_x \cdot v_x + u_y \cdot v_y}{\|\vec{u}\| \cdot \|\vec{v}\|} \text{ soit } \theta = \cos^{-1}\left(\frac{u_x \cdot v_x + u_y \cdot v_y}{\|\vec{u}\| \cdot \|\vec{v}\|}\right)$$

Déterminer les angles β et ϕ de la figure suivante :



Produit vectoriel

Important à retenir : Le produit vectoriel retourne en VECTEUR

Soit deux vecteurs $\vec{u} = \overrightarrow{AB}$ et $\vec{v} = \overrightarrow{CD}$ $\vec{u} \begin{pmatrix} u_x \\ u_y \end{pmatrix}$ $\vec{v} \begin{pmatrix} v_x \\ v_y \end{pmatrix}$

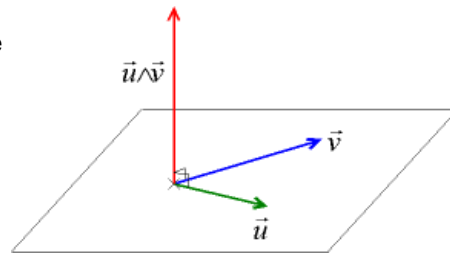
la multiplication de ces deux vecteurs est ce que l'on appelle un produit scalaire.

$\vec{u} \wedge \vec{v}$: produit vectoriel de \vec{u} par \vec{v}

Déterminer le sens du vecteur $\vec{u} \wedge \vec{v}$

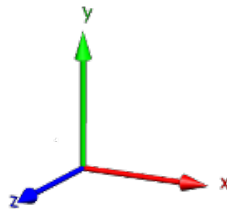
Le vecteur issu du produit vectoriel de deux vecteurs est toujours perpendiculaire au plan formé par ces deux vecteurs et de sens tel qu'il forme un trièdre **direct**. (cf. figure ci-contre).

⇒ Règle de la main droite



Exemple : soit un repère **direct** (O, x, y, z)

$$\begin{aligned} \vec{x} \wedge \vec{y} &= \vec{z} & \vec{y} \wedge \vec{x} &= -\vec{z} \\ \vec{y} \wedge \vec{z} &= \vec{x} & \vec{z} \wedge \vec{y} &= -\vec{x} \\ \vec{z} \wedge \vec{x} &= \vec{y} & \vec{x} \wedge \vec{z} &= -\vec{y} \end{aligned}$$



Déterminer les composantes du vecteur $\vec{w} = \vec{u} \otimes \vec{v}$

$$\vec{w} = \vec{u} \wedge \vec{v} = \begin{pmatrix} u_x \\ u_y \\ u_z \end{pmatrix} \wedge \begin{pmatrix} v_x \\ v_y \\ v_z \end{pmatrix} = \begin{pmatrix} u_y v_z - u_z v_y \\ u_z v_x - u_x v_z \\ u_x v_y - u_y v_x \end{pmatrix} = \begin{pmatrix} w_x \\ w_y \\ w_z \end{pmatrix}$$

Méthodologie :

$$\vec{u} \wedge \vec{v} = \begin{pmatrix} u_x \\ u_y \\ u_z \end{pmatrix} \otimes \begin{pmatrix} v_x \\ v_y \\ v_z \end{pmatrix}$$

Déterminer la norme de $\vec{w} = \vec{u} \wedge \vec{v}$:

Méthode 1 (Pythagore mais nécessite d'avoir les composantes de) :

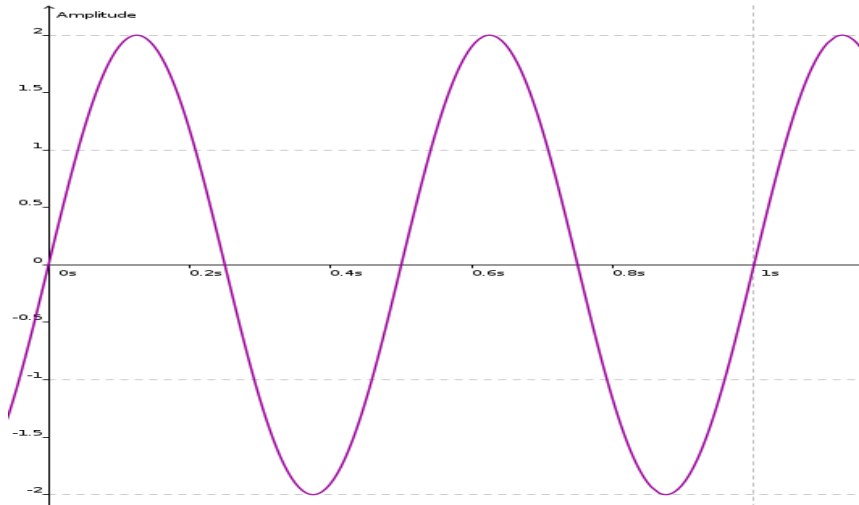
$$\|\vec{u} \wedge \vec{v}\| = \sqrt{w_x^2 + w_y^2 + w_z^2}$$

Méthode 2 : $\vec{u} \wedge \vec{v} = \|\vec{u}\| \cdot \|\vec{v}\| \cdot \sin(\vec{u}, \vec{v})$

Particularité : le produit vectoriel est nul si les deux vecteurs sont colinéaires (Effectivement le $\sin(\vec{u}, \vec{v}) = 0$)

Modélisation d'un signal sinusoïdal

Signal sinusoïdal :



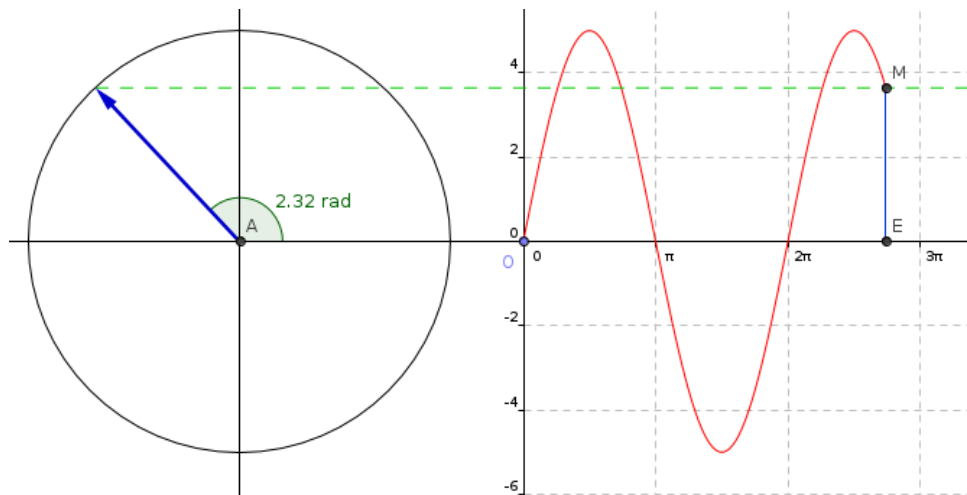
Dans de nombreux domaines, qu'il s'agisse de mécanique, d'acoustique ou d'électricité nous nous trouverons en présence de signaux tel que celui présenté ci-contre. Il s'agit d'un signal de type sinusoïdal.

Noter sur l'oscillogramme ci-contre :

- la période
- l'amplitude crête,
- l'amplitude crête à crête

Déterminer la fréquence « f » du signal :

Modélisation

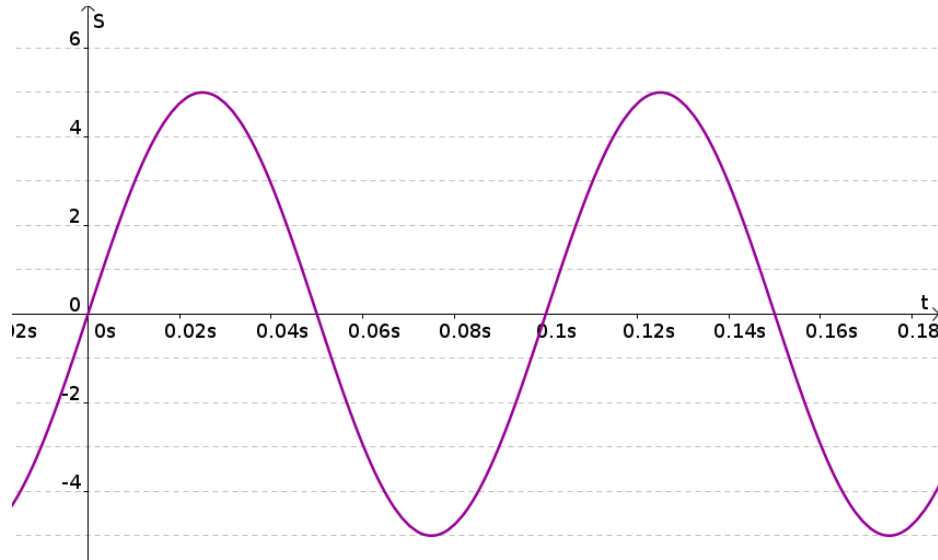


La sinusoïde est issue du cercle trigonométrique.

Ci-contre un vecteur S de norme 5. Si l'on gradue l'axe des abscisses en radians et que l'on reporte pour chacune des positions d'angle la valeur du sinus de ce vecteur, le signal obtenu est une sinusoïde qui peut s'écrire sous la forme $s(\theta) = 5 \cdot \sin(\theta)$

Un signal sinusoïdal peut donc être modélisé par un vecteur tournant

Un signal sinusoïdal en fonction du **temps** peut être représenté (**modélisé**) par un vecteur tournant à une pulsation ω .

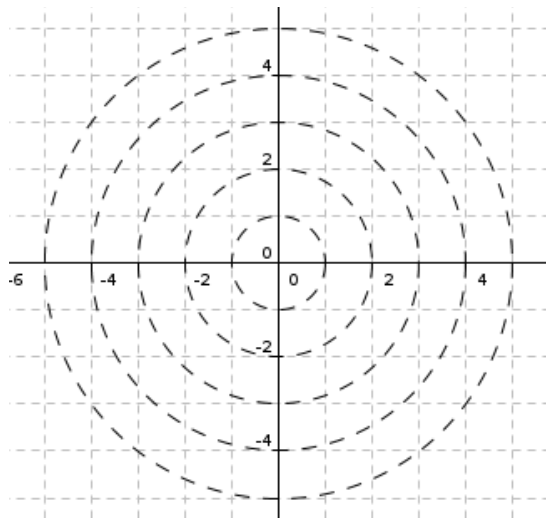


$$s(t) = S_M \cdot \sin(\omega t)$$

avec la pulsation $\omega = 2 \cdot \pi \cdot f = \frac{2 \cdot \pi}{T}$ en radians par seconde

Déterminer la pulsation « ω » du signal :

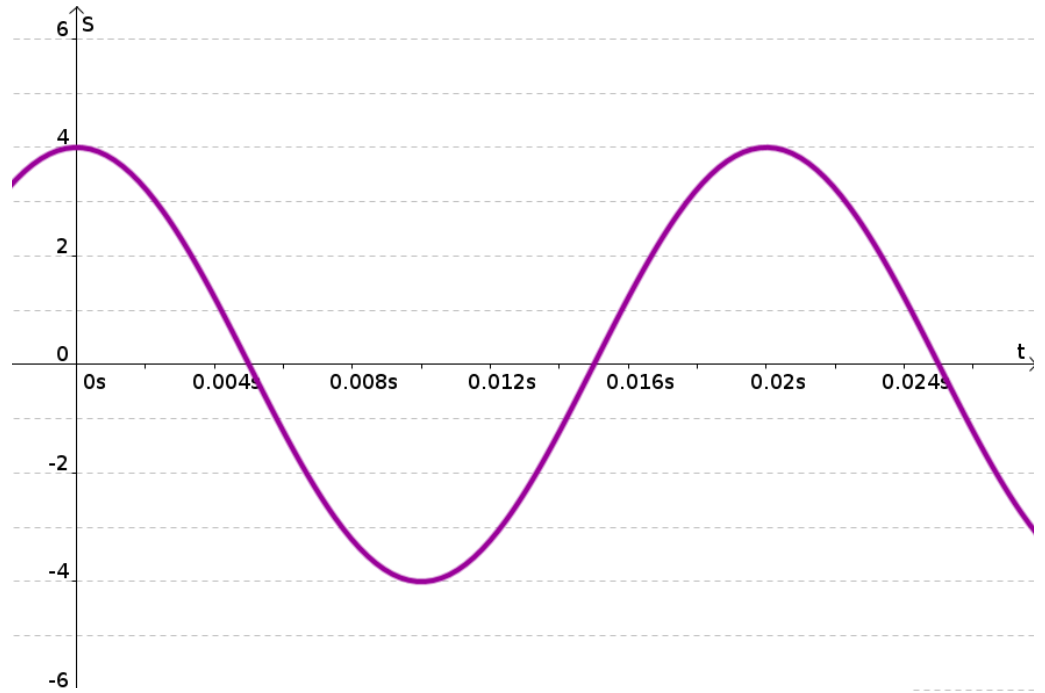
Donner l'écriture du signal S en fonction du temps s(t) :



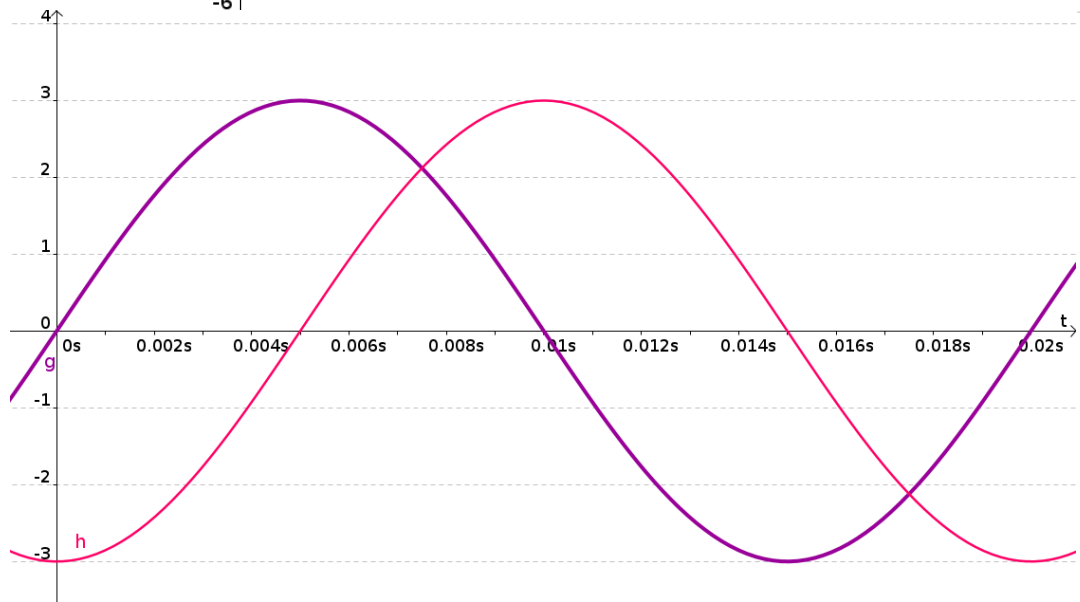
Représenter le signal s(t) par un vecteur sur la figure ci-contre aux instants suivants :

- à t=0,01s
- à t=0,025s
- à t=0,04s
- à t=0,06s
- à t=0,08s

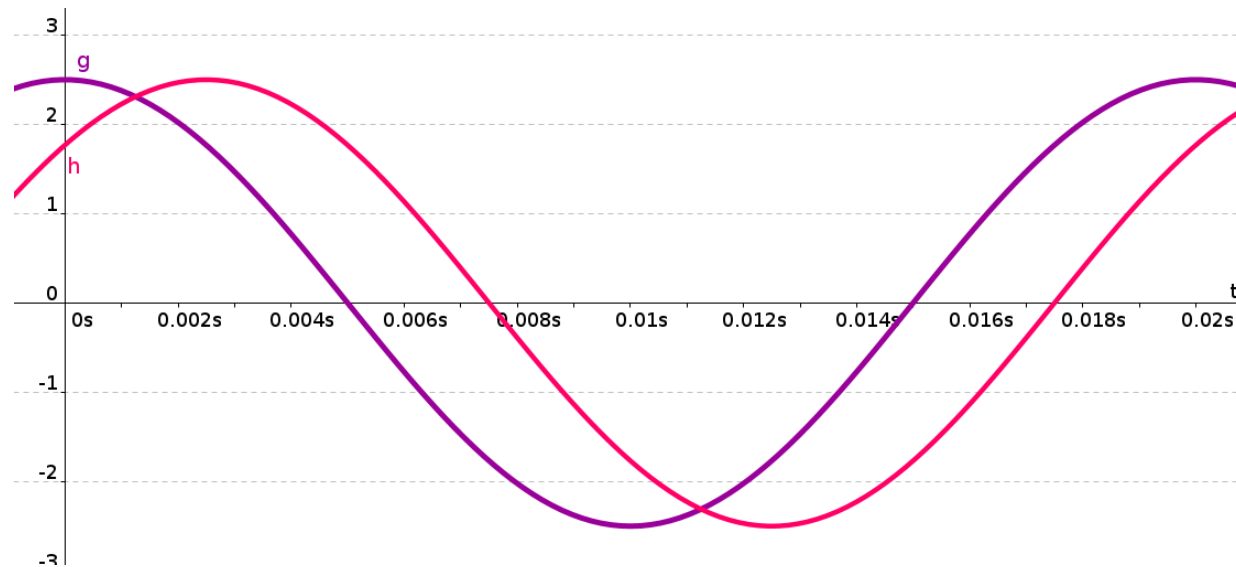
Déterminer l'équation du signal suivant : $s(t)= ?$



Déterminer l'équation de $g(t)$ puis $h(t)$ du graphe suivant :



Déterminer l'équation de g(t) puis h(t) du graphe suivant :

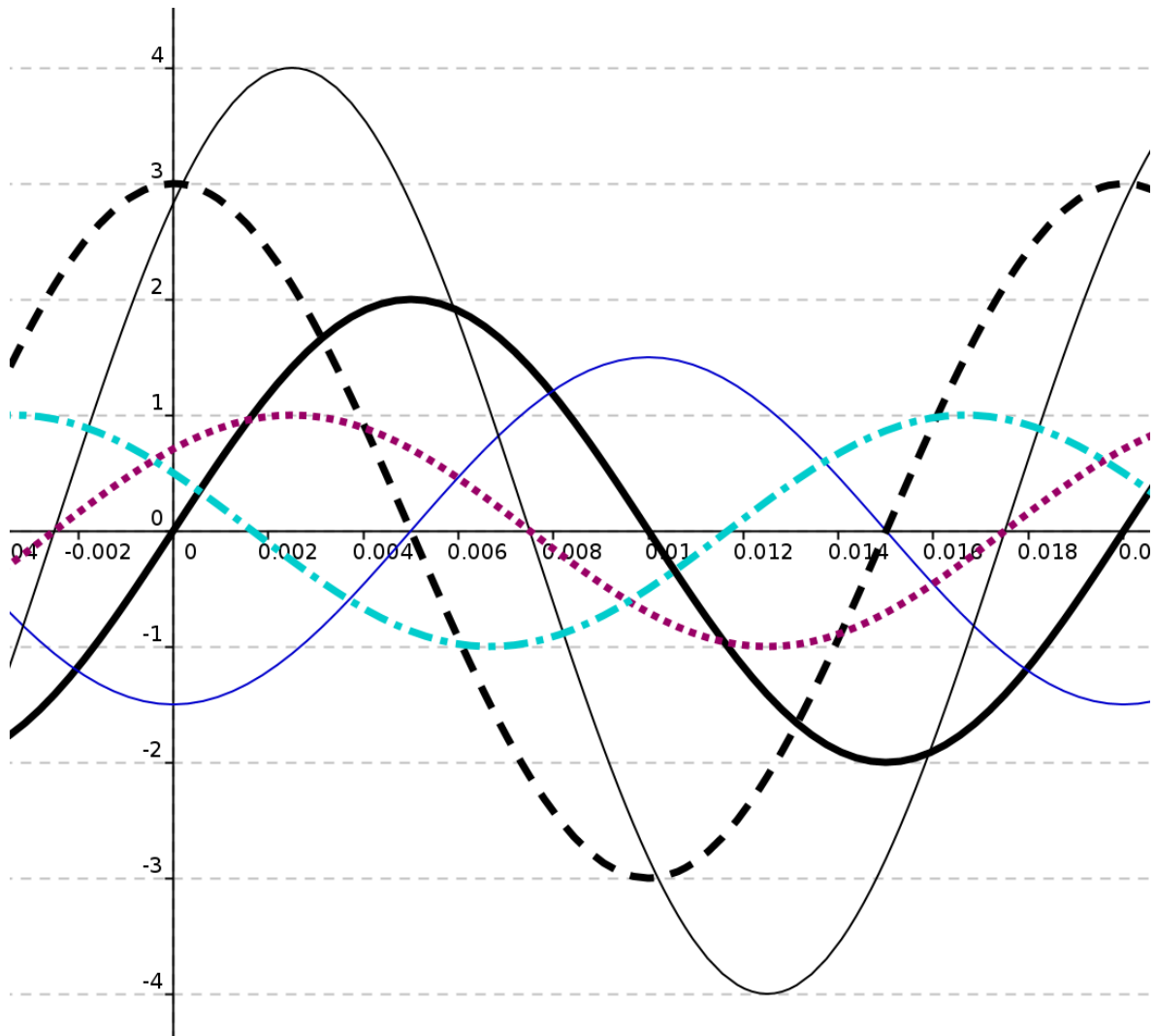


Dessiner à main levée les fonctions suivantes :

$$s_1(t) = 2 \cdot \sin(\omega t) \quad s_2(t) = 1,5 \cdot \sin\left(\omega t - \frac{\pi}{2}\right) \quad s_3(t) = 3 \cdot \cos(\omega t) \quad s_4(t) = 4 \cdot \sin\left(\omega t + \frac{\pi}{4}\right)$$

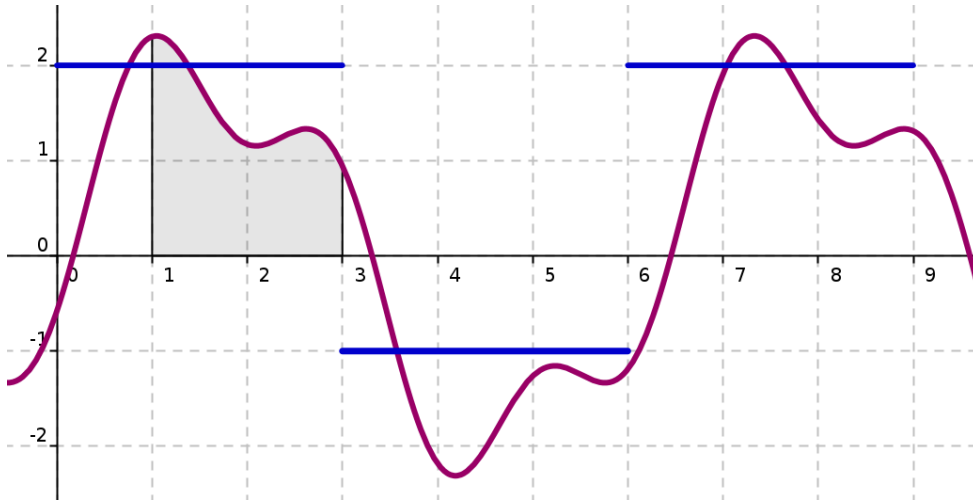
$$s_5(t) = 2 \cdot \cos\left(\omega t - \frac{\pi}{4}\right) \quad s_6(t) = \cos\left(\omega t + \frac{\pi}{3}\right)$$

Correction des courbes demandées page précédente :



Introduction à la fonction Intégrale

Vous souhaitez calculer l'aire A1 sous-tendue par la courbe g(t) en bleu entre 1 et 3 facile !



Quelle est l'aire de A1 ?

Plus difficile : l'aire A2 sous-tendue par la courbe s(t) en violet.

.... pas facile !?

En faite c'est assez simple à condition de connaître l'équation de s(t) et faire l'intégration du signal de 1 jusque 3.

$$A_1 = \int_1^3 s(t) dt = 3$$

(Pour les curieux, $s(t) = 2\sin(\omega t) + \frac{2}{3}\sin(3\omega t - \frac{\pi}{3})$)

En résumé :

L'opérateur $\int_a^b f(t) dt$ est un outil mathématique très puissant qui permet de calculer, connaissant la fonction f(t), l'aire sous-tendue par la courbe f(t), c'est à dire l'aire comprise entre la courbe et l'axe des abscisses.

Magique ...non !?